



UNIVERSITÄTS-
BIBLIOTHEK
PADERBORN

Lehrbuch der ebenen Trigonometrie

Hartl, Hans

Wien [u.a.], 1906

Auflösung rechtwinkliger Dreiecke.

[urn:nbn:de:hbz:466:1-76733](https://nbn-resolving.org/urn:nbn:de:hbz:466:1-76733)

Resultate zu c.

1. 28°	5. 35° 40'	9. 61°	13. 48° 40'
2. 34° 30'	6. 39° 24'	10. 69°	14. 51° 44'
3. 26°	7. 21° 46'	11. 79° 30'	15. 60° 34'
4. 16° 10'	8. 15° 48'	12. 59° 16'	16. 77° 56'

Auflösung rechtwinkliger Dreiecke mit Hilfe der Funktionstabeln.

§ 4. Für die Auflösung rechtwinkliger Dreiecke erweist es sich von Vorteil, die in § 2 aufgestellten Gleichungen (Definitionen) je nach einer Dreiecksseite aufzulösen und in dieser Form als textierte Lehrsätze festzuhalten.

In Fig. 8 ist:

$$1.) \quad \frac{a}{c} = \sin A, \quad \text{folglich} \quad a = c \cdot \sin A$$

$$\frac{b}{c} = \sin B, \quad \text{,,} \quad b = c \cdot \sin B$$

I.

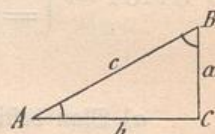


Fig. 8.

D. h. Jede Kathete ist gleich der Hypotenuse, multipliziert mit dem Sinus des dieser Kathete gegenüberliegenden Winkels (Sinussatz).

$$2.) \quad \frac{b}{c} = \cos A, \quad . . . \text{folglich} \quad b = c \cdot \cos A$$

$$\frac{a}{c} = \cos B, \quad . . . \text{,,} \quad a = c \cdot \cos B$$

II.

D. h. Jede Kathete ist gleich der Hypotenuse, multipliziert mit dem Cosinus des dieser Kathete anliegenden Winkels (Cosinussatz).

Beispiel.

Gegeben $c = 110 \cdot 25 \text{ cm}$ $\sphericalangle A = 22^\circ$
 Dann ist $a = c \cdot \sin A = 110 \cdot 25 \times 0 \cdot 37461 = 41 \cdot 301 \text{ cm}$
 $b = c \cdot \cos A = 110 \cdot 25 \times 0 \cdot 92718 = 102 \cdot 221 \text{ cm}$

Übungsbeispiele.

Man löse folgende rechtwinklige Dreiecke auf:

1. $c = 125 \text{ cm}$	2. $c = 99 \cdot 7 \text{ cm}$	3. $c = 235 \cdot 5 \text{ mm}$	4. $c = 293 \cdot 5 \text{ m}$
$\sphericalangle A = 37^\circ$	$\sphericalangle A = 65^\circ$	$\sphericalangle B = 41^\circ 30'$	$\sphericalangle B = 71^\circ 10'$

Resultate.

$$1. \quad a = 75 \cdot 227 \text{ cm} \\ b = 99 \cdot 83 \text{ cm}$$

$$2. \quad a = 90 \cdot 359 \text{ cm} \\ b = 42 \cdot 135 \text{ cm}$$

$$3. \quad a = 176 \cdot 38 \text{ mm} \\ b = 156 \cdot 05 \text{ mm}$$

$$4. \quad a = 94 \cdot 748 \text{ m} \\ b = 277 \cdot 787 \text{ m}$$

3.) Zwischen den beiden Katheten bestehen die Gleichungen

$$\frac{a}{b} = \operatorname{tg} A, \quad \text{folglich} \quad a = b \cdot \operatorname{tg} A \\ \frac{b}{a} = \operatorname{tg} B, \quad \text{"} \quad b = a \cdot \operatorname{tg} B \quad \text{III.}$$

D. h. Jede Kathete ist gleich der anderen Kathete, multipliziert mit dem Tangens des der ersteren gegenüberliegenden Winkels (Tangenssatz).

$$4.) \quad \frac{a}{b} = \operatorname{cotg} B, \quad \text{folglich} \quad a = b \cdot \operatorname{cotg} B \\ \frac{b}{a} = \operatorname{cotg} A, \quad \text{"} \quad b = a \cdot \operatorname{cotg} A \quad \text{IV.}$$

D. h. Jede Kathete ist gleich der anderen Kathete, multipliziert mit dem Cotangens des der ersteren anliegenden Winkels (Cotangenssatz).

Übungsbeispiele.

1. Wie groß ist die Kathete b , wenn in Fig. 8

$$\alpha) \quad a = 25 \cdot 25 \text{ m} \quad \beta) \quad a = 99 \cdot 95 \text{ m} \quad \gamma) \quad a = 17 \cdot 85 \text{ m} \\ \sphericalangle A = 29^\circ 20' \quad \sphericalangle B = 37^\circ 30' \quad \sphericalangle A = 73^\circ 12' \quad \text{ist?}$$

2. Wie groß ist die Kathete a , wenn in Fig. 8

$$\alpha) \quad b = 715 \cdot 8 \text{ mm} \quad \beta) \quad b = 357 \cdot 5 \text{ dm} \quad \gamma) \quad b = 28 \cdot 35 \text{ m} \\ \sphericalangle A = 59^\circ 40' \quad \sphericalangle B = 40^\circ 50' \quad \sphericalangle A = 65^\circ 44' \quad \text{ist?}$$

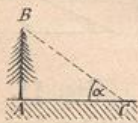


Fig. 9.

3. Wie viele Meter beträgt die Höhe AB eines vertikalen Baumes (Fig. 9), dessen Schatten AC auf horizontalem Boden $15 \cdot 75 \text{ m}$ mißt, wenn die Sonnenstrahlen unter $33^\circ 30'$ (α) einfallen?

Resultate.

$$1. \quad \alpha) \quad 44 \cdot 93 \text{ m}$$

$$\beta) \quad 76 \cdot 69$$

$$\gamma) \quad 5 \cdot 388 \text{ m}$$

$$2. \quad \alpha) \quad 1223 \cdot 3 \text{ mm}$$

$$\beta) \quad 413 \cdot 7 \text{ dm}$$

$$\gamma) \quad 62 \cdot 885 \text{ m}$$

$$3. \quad h = 10 \cdot 424 \text{ m}$$

5.) Aus den Gleichungen I. und II. ergeben sich weiters noch die Gleichungen

$$\text{V.} \quad \begin{aligned} c &= \frac{a}{\sin A} \\ c &= \frac{b}{\sin B} \end{aligned} \quad \text{und} \quad \begin{aligned} c &= \frac{a}{\cos B} \\ c &= \frac{b}{\cos A} \end{aligned} \quad \text{VI.}$$

D. h. Die Hypotenuse ist gleich einer Kathete, dividiert durch den Sinus des dieser Kathete gegenüberliegenden (oder: dividiert durch den Cosinus des dieser Kathete anliegenden) Winkels.

Beispiele.

1. $a = 49 \cdot 5 \text{ m}$
 $\sphericalangle A = 31^\circ 40'$

$$c = \frac{a}{\sin A} = 49 \cdot 5 : 0 \cdot 52498$$

$$c = 94 \cdot 29 \text{ m}$$

2. $b = 125 \cdot 8 \text{ cm}$
 $\sphericalangle A = 62^\circ 50'$

$$c = \frac{b}{\cos A} = 125 \cdot 8 : 0 \cdot 45658$$

$$c = 275 \cdot 53 \text{ cm}$$

Für die Auflösung rechtwinkliger Dreiecke beachte man folgende, auf Klangähnlichkeit beruhende Merksregeln:

1. Immer, wenn die Hypotenuse e in der Rechnung vorkommt, hat man **sinus** oder **cosinus** zu nehmen. (Sätze I, II, V und VI.)

2. Kommen nur die beiden Katheten vor, so nimmt man **tangens** oder **cotangens**. (Sätze III, IV.)

Übungsbeispiele.

Man löse folgende rechtwinklige Dreiecke auf:

$\sphericalangle C = 90^\circ$	1. $c = 58 \cdot 7 \text{ m}$	2. $c = 62 \cdot 3 \text{ cm}$
$\sphericalangle P = 90^\circ$	$\sphericalangle A = 29^\circ 10'$	$\sphericalangle B = 37^\circ 30'$
$\sphericalangle L = 90^\circ$	3. $m = 42 \cdot 7 \text{ cm}$	4. $n = 68 \cdot 3 \text{ m}$
	$\sphericalangle N = 53^\circ 20'$	$\sphericalangle N = 65^\circ 20'$
	5. $k = 53 \cdot 65 \text{ m}$	6. $l = 458 \cdot 73 \text{ dm}$
	$\sphericalangle H = 72^\circ 20'$	$\sphericalangle K = 39^\circ 40'$

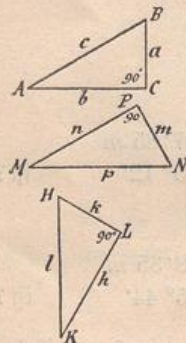


Fig. 10.

7. Wie groß ist die Beschleunigungskomponente γ (Fig. 11), mit welcher eine Kugel über eine schiefe Ebene vom Neigungswinkel $\alpha = 17^\circ 40'$ herabrollt? (Beschleunigung der Schwere $g = 9 \cdot 81 \text{ m.}$)

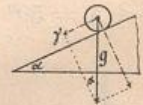


Fig. 11.

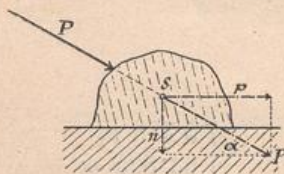


Fig. 12.

8. Ein auf horizontaler Unterlage liegender Körper (Fig. 12) wird durch eine unter dem Winkel $\alpha = 27^\circ 30'$, geneigte Kraft $P = 25 \cdot 75 \text{ kg}$ geschoben.

- Wie groß ist die Bewegungskomponente p ?
- Wie groß ist die zur Verstärkung der Reibung dienende Druck-Komponente n ?

e) Wie groß ist die Reibung R , wenn der Reibungskoeffizient 0.21 und das Gewicht des Körpers $Q = 35.5 \text{ kg}$ ist?

9. a) Wie groß sind die Spannungen (z und d) in den Teilen ac und bc der in Fig. 13 dargestellten Eisenkonstruktionen, wenn die vertikale Belastung

$$Q = 785 \text{ kg} \text{ und der } \angle a = 57^\circ 30' \text{ ist?}$$

(a bedeutet die Neigung des schrägen Konstruktionsteiles gegen die Vertikale.)

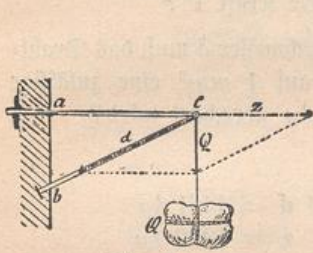


Fig. 13 a.

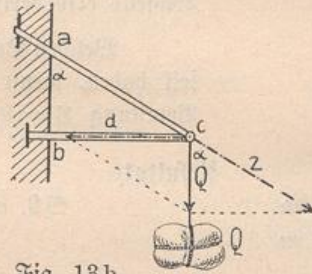


Fig. 13 b.

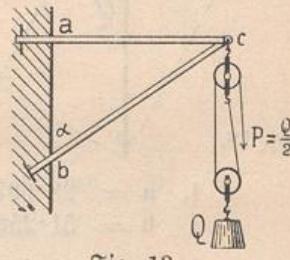


Fig. 13 c.

Dieselbe Aufgabe ist für folgende Angaben zu lösen:

b) $Q = 555 \text{ kg}$ $\angle a = 58^\circ$ c) $Q = 2375 \text{ kg}$ $\angle a = 55^\circ 20'$

Wie stellen sich die Lösungen, wenn die Last Q nicht unmittelbar am Punkte c , sondern nach Fig. 13 c an einem Rollenzuge hängt?

10. Die Bergspitze S erscheint von C aus unter dem Elevations- (Höhen-) Winkel $\alpha = 6^\circ 10'$. Wie groß ist der Höhenunterschied h beider Punkte S und C , wenn ihre Horizontalfentfernung $CF = b = 5867 \text{ m}$ beträgt? (Fig. 14.)

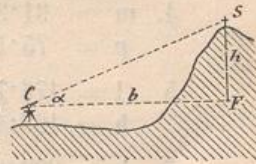


Fig. 14.

11. a) Ein Graben (Fig. 15) hat die Tiefe $t = 2.25 \text{ m}$ und beiderseits einen Böschungswinkel $\alpha = 35^\circ 30'$. Wie groß ist die Grabenseite AC und die obere Breite CD , wenn die Grabensohle $AB \dots 5.75 \text{ m}$ breit ist?

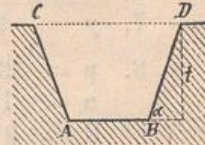


Fig. 15.

b) Ein Graben (Fig. 16) hat eine Grabensohle von 5.25 m Breite, eine Tiefe $t = 3.25 \text{ m}$ und seine beiden Seitenwände besitzen die Böschungswinkel $w_1 = 65\frac{1}{2}^\circ$ und $w_2 = 37^\circ$. Wie groß ist die obere Breite des Grabens?

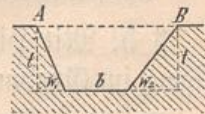


Fig. 16.

12. Wie groß ist die Breite AP eines Flusses (Fig. 17), wenn die zu AP senkrechte „Standlinie“ $AB = 95.35 \text{ m}$ und der Visierwinkel $PBA = 51^\circ 40'$ ist?

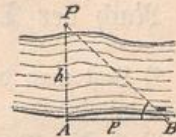


Fig. 17.

13. Auf einer Arbeitsbahn vom Neigungswinkel $\alpha = 21^\circ 20'$ wird ein Wagen vom Gewichte $Q = 2375 \text{ kg}$ mittels Drahtseils emporgezogen. (Fig. 18.)

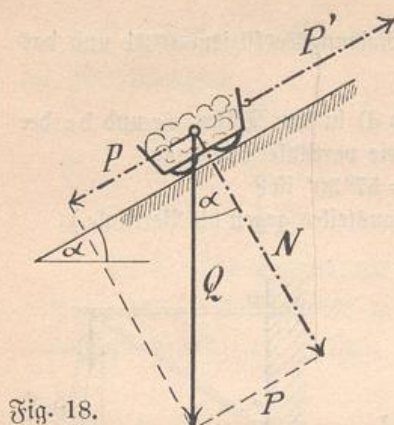


Fig. 18.

1. $a = 28.607 \text{ m}$
 $b = 51.258 \text{ m}$
2. $a = 49.426 \text{ cm}$
 $b = 37.926 \text{ cm}$
3. $n = 57.355 \text{ cm}$
 $p = 71.505 \text{ cm}$
4. $m = 31.366 \text{ m}$
 $p = 75.158 \text{ m}$
5. $l = 176.78 \text{ m}$
 $h = 168.44 \text{ m}$
6. $k = 292.82 \text{ dm}$
 $h = 353.12 \text{ dm}$
7. $\gamma = 2.977 \text{ m}$
8. $p = 22.84 \text{ kg}$
 $n = 11.89 \text{ kg}$
 $R = 9.952 \text{ kg}$

Wie groß sind die parallel und senkrecht zum Geleise wirkenden Komponenten P und N ?

Wie groß ist die Reibung, wenn der Reibungskoeffizient $f = 0.08$ ist?

Wie groß ist die zum Hinaufziehen des Wagens erforderliche Kraft P' ?

Welchen Durchmesser δ muß das Drahtseil haben, wenn auf 1 mm^2 eine zulässige Belastung $S = 9 \text{ kg}$ gerechnet wird?

Resultate.

- *) 9. a) $d = 1461 \text{ kg}$
 $z = 1232 \text{ kg}$
- b) $d = 1047 \text{ kg}$
 $z = 888 \text{ kg}$
- c) $d = 4175 \text{ kg}$
 $z = 3434 \text{ kg}$
10. $h = 633.9 \text{ m}$
11. a) $AC = 3.875 \text{ m}$
 $CD = 12.058 \text{ m}$
- b) $AB = 11.043 \text{ m}$
12. $b = 120.59 \text{ m}$
13. $P = 863 \text{ kg}$ ✓
 $N = 2212 \text{ kg}$
 $R = 177 \text{ kg}$
 $P' = 1040 \text{ kg}$
 $\delta = 13.13 \text{ mm}$

Konstruktion eines Winkels mit Hilfe der Funktionswerte.

§ 5. Mit Hilfe der Funktionstabellen kann man auch einen beliebigen, im Gradmaße gegebenen Winkel ohne Transporteur verzeichnen.

Es sei z. B. ein Winkel $\omega = 29^\circ 10'$ aufzutragen.

$$\text{Nach der Tabelle ist } \operatorname{tg} 29^\circ 10' = 0.558 \dots = \frac{55.8}{100}$$

*) Legt man der Aufgabe die Fig. 13 b zugrunde, so sind in den Resultaten d und z miteinander zu vertauschen.

Nach Fig. 13 c ist der bei c wirksame Druck $= 1.5 Q$; daher sind auch die Werte d und z mit 1.5 zu multiplizieren.